

Bahagian A (30 markah)

BULATKAN jawapan yang betul.

1. Haiwan manakah yang mempunyai enam kaki?

- A. Lebah
- B. Katak
- C. Burung



2. Haiwan di atas mempunyai _____.

- A. Sirip
- B. Paruh
- C. cengkerang


3. Kumpulan haiwan manakah yang mempunyai cengkerang?




4. Manakah di antara haiwan yang berikut mempunyai sifat fizikal yang sama dengan gambar di bawah?



- A. Kuda
B. Gajah
C. Burung helang
5. Haiwan manakah yang mempunyai sisik dan tiada kaki?



6. Haiwan-haiwan yang berikut dikelaskan berdasarkan persamaannya.

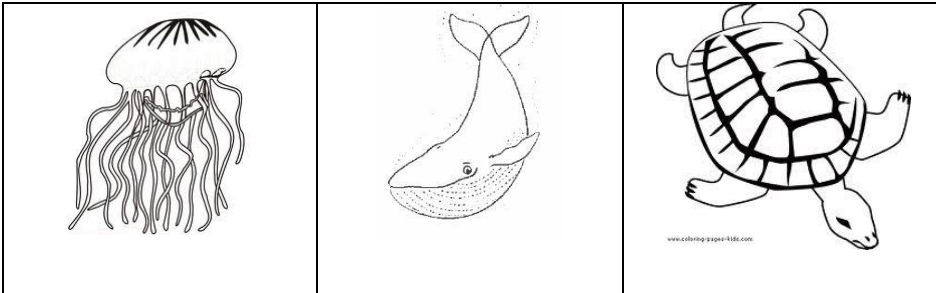


Haiwan yang manakah tergolong dalam kumpulan ini?

- A. Ayam jantan
B. Ikan paus

C. Kucing

7. Kaji haiwan-haiwan di bawah



Apakah persamaan haiwan-haiwan ini?

- A. Mereka mempunyai cengkerang untuk melitupi badan.
 - B. Mereka hidup dalam laut.
 - C. Mereka mempunyai sisik pada badan.
8. Manakah antara tumbuhan berikut yang tinggal di dalam air?
- A. Pokok durian
 - B. Pokok betik
 - C. Keladi bunting
9. Apakah bentuk daun di bawah?



- A. Bentuk bujur
- B. Bentuk hati

C. Bentuk panjang

10. Mana satukah tumbuhan berbunga?

A



B



C



11. Yang manakah merupakan tumbuhan berbunga?

A.



B.



C.




12. Tumbuhan yang manakah mempunyai daun berkilat?

- A. Pokok pandan
- B. Pokok serai
- C. Pokok Seri Pagi

- berbunga
- batang berkayu
- daun berbentuk bujur

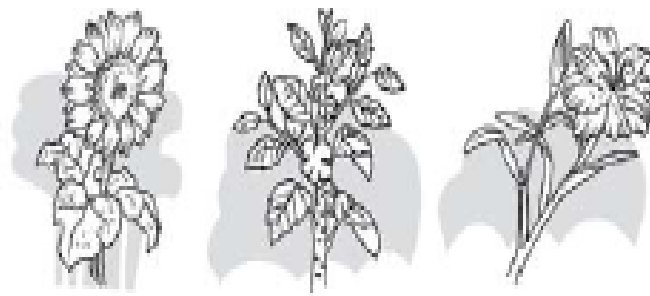
13. Tumbuhan apakah yang mempunyai semua sifat luaran yang dinyatakan di atas?

- A. Bunga orkid
- B. Bunga raya
- C. Pokok pisang



14. Tumbuhan di atas boleh dikelaskan sebagai tumbuhan dengan _____.

- A. daun panjang
- B. batang keras
- C. daun kasar



15. Tumbuhan di atas boleh dibahagikan kepada dua kumpulan berdasarkan kepada _____.

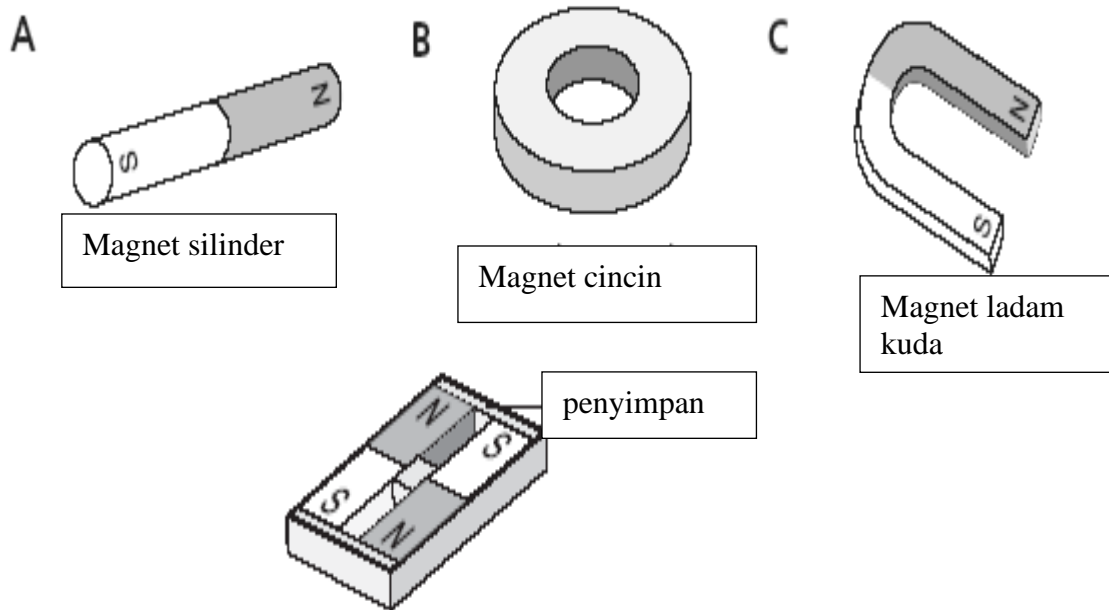
- A. Jenis batang
- B. bentuk daun
- C. warna daun

16. Apakah perbezaan antara pokok orkid dan paku pakis tanduk rusa?

- I Jenis daun
- II Tumbuhan berbunga atau tumbuhan tidak berbunga
- III Jenis batang

- A. I dan II sahaja
- B. II dan III sahaja
- C. I,II dan III

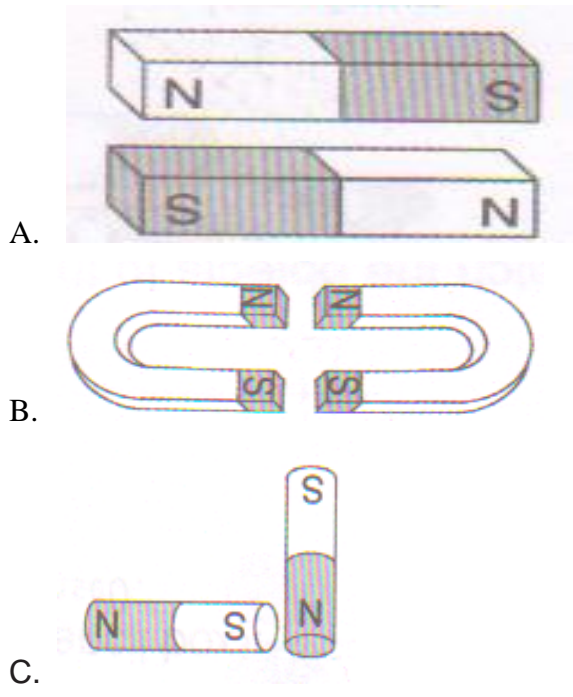
17. Manakah antara manet berikut yang diberi nama yang salah?



18. Berapakah bilangan kutub yang ada pada magnet?

- A. 1
- B. 2
- C. 3

19. Antara magnet yang berikut, yang manakah akan menolak di antara satu sama lain?



20. Penjaga magnet yang ditunjukkan dalam gambar di atas diperbuat daripada ____.

- A. Logam
- B. Kayu
- C. plastik

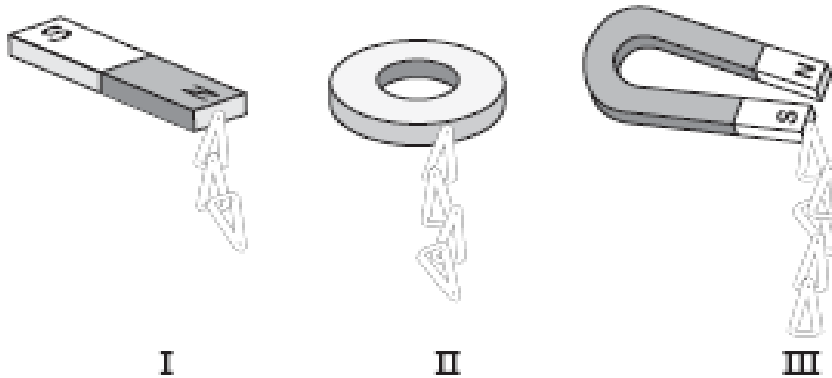
21. Manakah antara berikut merupakan cara yang baik untuk mengendalikan magnet?



22. Magnet harus diletakkan di antara _____ bila tidak digunakan.

- A. kotak plastic
- B. kepingan besi
- C. kepingan kertas tebal

23. Manakah antara benda berikut boleh ditarik oleh magnet?



24. Susun magnet-magnet ini dari yang paling kuat kepada yang paling lemah.

- A. I, II, III
- B. II, III, I
- C. III, II, I

25. Apakah kesamaan bagi dua objek di bawah?



- A. Diperbuat daripada jenis bahan yang sama
- B. Bahan penyerap
- C. Tidak boleh menyerap air


26. Allan baru mandi. Dia ingin mengelap badannya. Bahan yang manakah paling sesuai digunakan oleh Allan?

- A. Tuala
- B. Tisu
- C. Sapu tangan

27. Manakah antara berikut yang digunakan untuk membuat baju hujan?

- A. Span
- B. Tisu
- C. Plastik

28. Zilla diberi tiga span yang berbeza saiz.



Span yang manakah menyerap lebih banyak air?

- A. P
- B. Q
- C. R

29. Maklumat di bawah menunjukkan suatu senarai bahan.

Putik kapas, tuala tangan, tuala mandi

Susun bahan di atas dari paling kurang menyerap hingga paling menyerap.

- A. Putik kapas, tuala tangan, tuala mandi
- B. Putik kapas, tuala mandi, tuala tangan
- C. Tuala mandi, tuala tangan, putik kapas

30. Kapas digunakan untuk membuat lampin bayi kerana ia _____.

- A. Boleh menyerap air
- B. Senang dikeringkan
- C. Senang dibasuh

Jawab semua soalan. (30 markah)

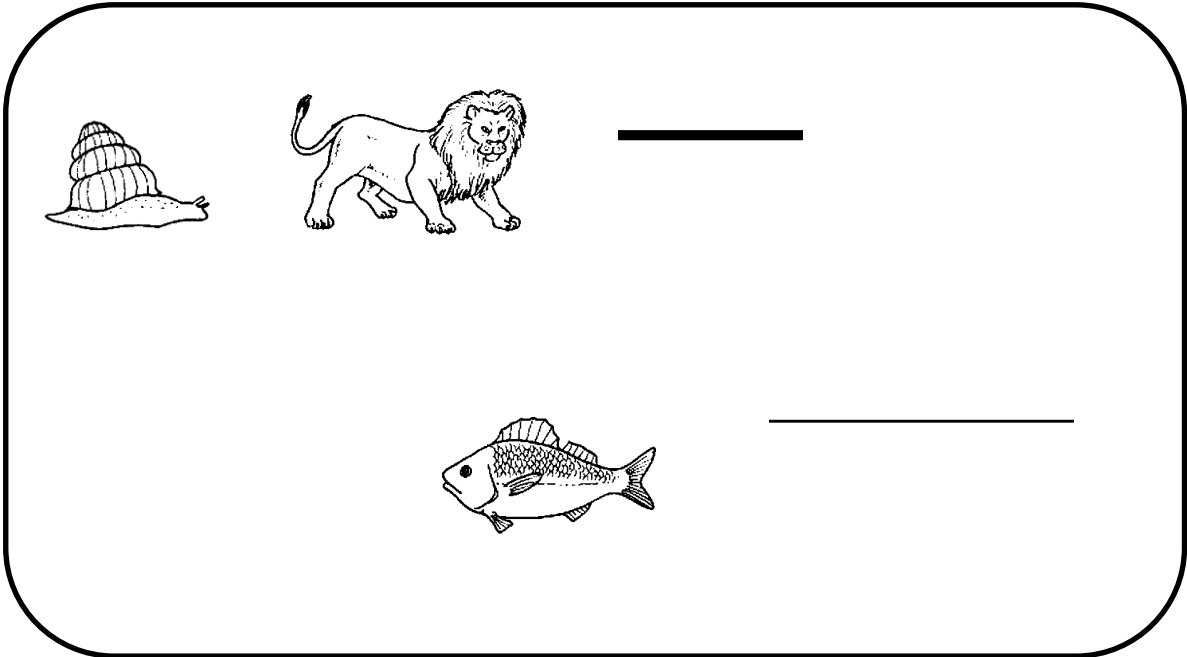
1. Baca dan fahami maklumat di bawah. Kemudian, tuliskan jawapan di tempat yang disediakan. (5 markah)



| | | |
|---|---|--|
| 1 | Saya ada empat kaki, dua mata, dua gading dan satu belalai. | |
| 2 | Saya ada sepasang sayap yang cantik, tiga pasang kaki dan sesunggut. | |
| 3 | Badan saya diliputi oleh bulu pelepah. Saya ada dua kaki, dua kepak dan paruh. | |
| 4 | Saya bergerak sangat perlahan kerana saya tiada kaki tetapi saya ada cangkerang di atas badan saya. | |
| 5 | Saya ada empat kaki, satu ekor dan dua tanduk di kepala. | |

2. Jawab soalan berdasarkan gambar di bawah ini.

(4m)



a. Haiwan manakah mempunyai bulu pelepah ?

b. Mengapakah kita boleh kelaskan siput babi dan kura-kura dalam kumpulan yang sama?

c. Namakan haiwan yang mempunyai tanduk ?

i. _____

ii. _____

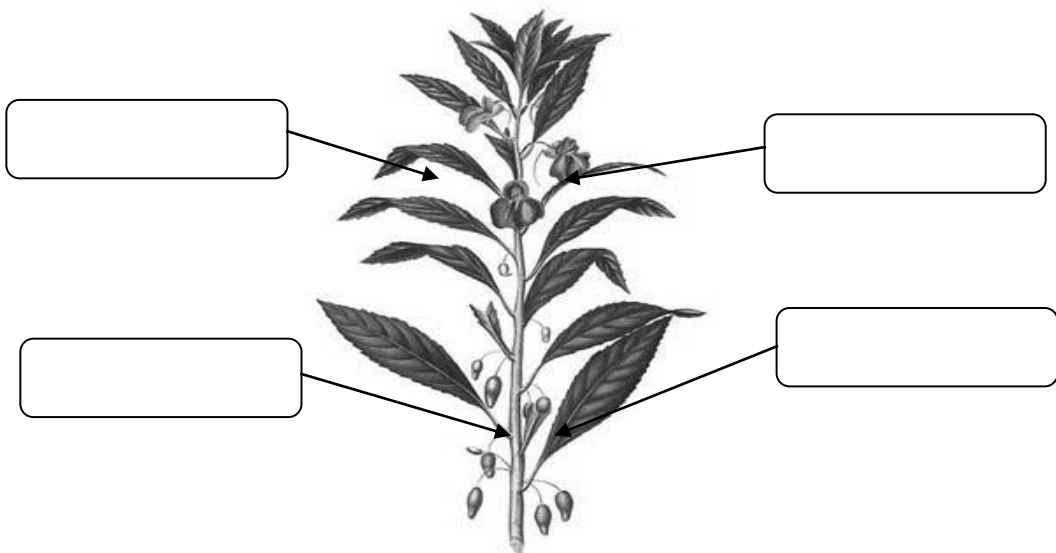
d. Ramalkan haiwan di bawah ini.

- *Saya ada ekor*
- *saya ada banyak sisik*
- *Saya tidak mempunyai kaki.*

Haiwan ini adalah _____

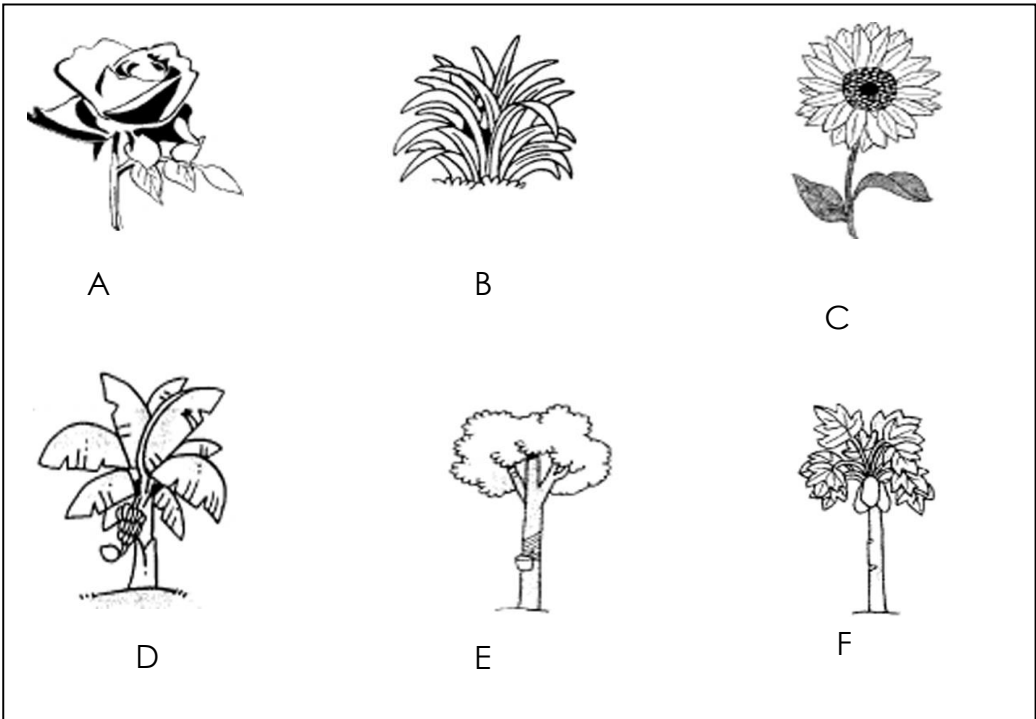
3. Namakan sifat luaran bagi tumbuhan di bawah.

(4m)



4. Perhatikan gambar di bawah dan jawab soalan.

(5m)



a. Pokok manakah mempunyai batang berkayu ?

i. _____

ii. _____

b. Tumbuhan manakah mempunyai daun yang tidak sekata ?

c. Tumbuhan manakah mempunyai daun yang panjang?

i. _____

ii. _____

d. Tumbuhan manakah mempunyai duri?

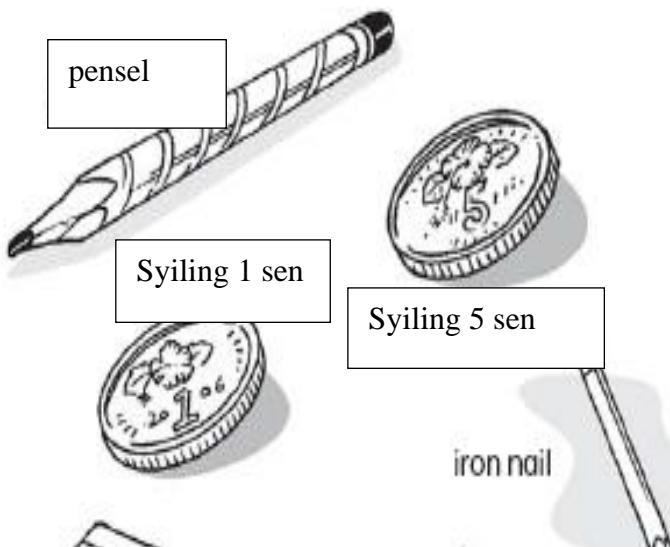
e. Tumbuhan manakah yang mengeluarkan bunga dan buah?

i. _____

ii. _____

5. Kelaskan benda-benda di bawah ini.

(6m)



Objek yang boleh ditarik oleh magnet

1.

2.

3.

Objek yang tidak boleh ditarik oleh magnet.

1.

2.

3.

Paku besi

pisau

pemadam

guli

Klip kertas

chopstick

6. Baca dan fahami pernyataan di bawah dan tuliskan BENAR bagi pernyataan yang betul dan SALAH bagi pernyataan yang salah. (6m)

- a. Span yang besar menyerap lebih banyak air berbanding span yang kecil.

- b. Getah pemadam boleh menyerap air.



c. Kapas adalah bahan berupaya menyerap.



d. Kertas tisu menyerap lebih banyak air berbanding mop.



e. Kita boleh menggunakan plastik untuk mengelap air di atas lantai.



f. Duit syiling boleh menyerap air lebih baik daripada span.