

Dapatkan Latihan topikal Sains ini kunjungi laman web :
<http://rgsebook.blogspot.com/2010/12/latihan-sains-tahun-1.html>

Isikan jawapan dalam kotak yang disediakan

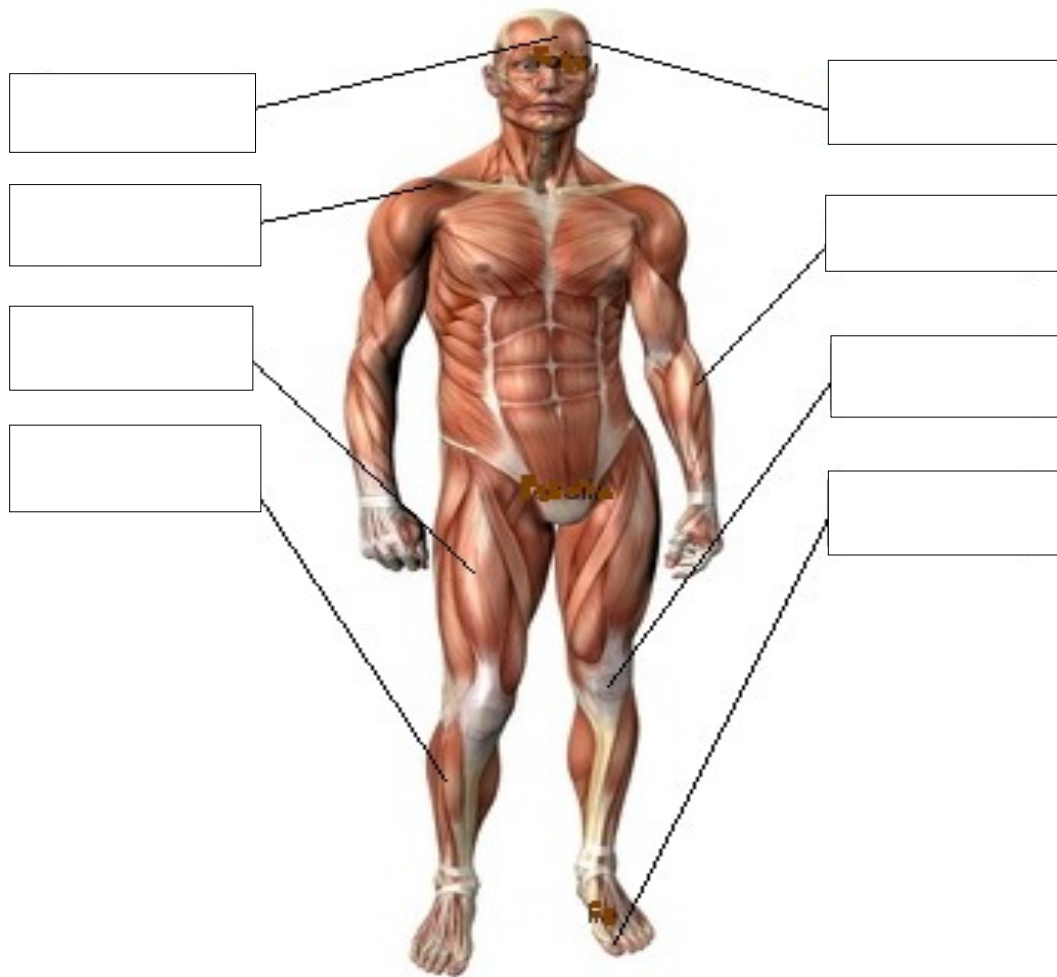
Latihan 1

Bahagian-bahagian badan manusia

1.1. Apakah bahagian badan yang digunakan untuk melakukan aktiviti berikut.

Mencuci kereta	
Membaca buku	
Menonton televisyen	
Menghidu bau makanan	
Mengunyah makanan	
Menendang bola	
Merasa makanan	
Mendengar radio	
Berbual	

1.2. Namakan bahagian-bahagian badan manusia



1.3. Tandakan jawapan yang betul

1. Berapakah bilangan telinga yang ada pada tubuh manusia

- A lima
- B dua
- C tiga

Jawapan

2. Kita menyepak bola dengan menggunakan

- A tapak kaki
- B jari kaki
- C kaki

Jawapan

3. Manusia melihat dengan menggunakan

- A telinga
- B hidung
- C mata

Jawapan

4. Kita mencium bau makanan dengan menggunakan



Jawapan

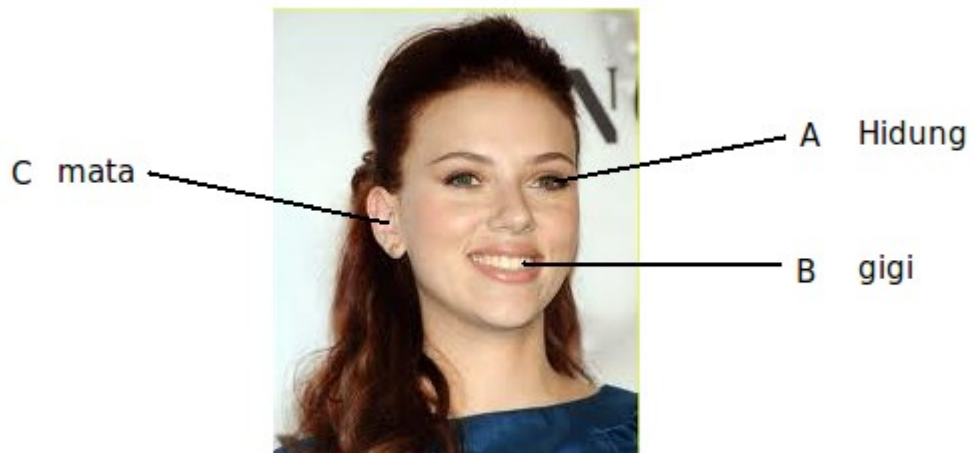
5. Apakah aktiviti yang boleh dilakukan dengan anggota badan ini



- A Bermain catur
- B Melipat baju
- C Berjalan

Jawapan

6. Yang manakah bahagian badan yang dilabel dengan betul?



Jawapan

Latihan 2

2.1 Namakan bahagian badan yang digunakan dalam aktiviti di bawah:

1.



membaca buku

2.



menyanyi

3.



memancing



4.



berlari



5.



melukis

6.



mendengar muzik

7.



menonton tv

2.2 Isikan tempat kosong dengan pilihan jawapan yang diberikan

1. Maria merasa makanan dengan menggunakan



2. Sarah menghidu bau makanan dengan menggunakan



3. Ashraf dan adiknya mendengar muzik dengan menggunakan



4. Pak Abu memerhatikan burung dengan menggunakan



5. Mei Lin merasa bulu kucingnya dengan menggunakan



2.3 Labelkan organ-organ deria yang ada pada tubuh manusia



2.4 Tandakan jawapan yang betul

1. Bahagian badan yang mana kita gunakan semasa mendengar muzik?

- A mulut
- B telinga
- C hidung

Jawapan

2. Yang manakah deria yang digunakan untuk merasa

A



B



C



Jawapan

3. Anggota badan yang digunakan untuk mencari pin yang terjatuh di lantai

- A mata
- B telinga
- C hidung

Jawapan

4. Kita boleh mengenalpasti jenis haiwan apabila mendengar bunyinya dengan menggunakan

- A hidung
- B telinga
- C kulit

Jawapan

5. Apakah fungsi kulit ?

- A merasa makanan
- B mengesan bunyi
- C merasa panas dan sejuk sesuatu objek

Jawapan

6. Untuk membezakan rasa garam dan gula kita boleh menggunakan

- A hidung
- B mata
- C lidah

Jawapan

7. Kulit boleh membantu kita mengesan rasa

- A panas dan warna
- B permukaan kasar dan halus
- C bau makanan

Jawapan

Latihan 3

3.1 Tandakan / untuk tabiat yang baik dan X untuk tabiat yang tidak baik

1. Saya membantu rakan yang mengalami kesusahan

2. Saya makan empat kali sehari

3. Saya membasuh pinggan sendiri selepas makan

4. Saya mengesat tangan yang kotor pada baju

3.2 Tandakan B untuk tabiat yang baik dan T untuk tabiat yang tidak baik



Tidur selepas makan tengahari



Makan ais krim dengan banyak



Mandi dua kali sehari



Memberus gigi selepas makan



Membasuh tangan selepas bermain



Banyak makan makanan ringan

3.3 Tandakan jawapan yang betul pada ruangan yang disediakan

1. Kita perlu membasuh pakaian yang kita pakai _____

- A bila perlu sahaja
- B selepas digunakan
- C seminggu sekali

Jawapan

2. _____ adalah satu amalan yang baik

- A membuang sampah merata-rata
- B memotong kuku apabila panjang
- C memberus gigi seminggu sekali

Jawapan

3. Untuk mengelakkan kita daripada penyakit kita perlu

- A membasuh tangan sebelum makan
- B makan ubat selepas mendapat penyakit
- C pergi ke hospital

Jawapan

4. Saya membasuh _____ selepas makan

- A kaki
- B rambut
- C tangan

Jawapan

5. Kita _____ menggunakan ubat gigi ketika memberus gigi

- A tidak perlu
- B jangan
- C mesti

Jawapan

6. Kita perlu menyikat rambut selepas _____

- A keluar dari tandas
- B mandi
- C disuruh oleh ayah

Jawapan

7. Yang manakah bukan kaedah untuk mengekalkan kesihatan yang baik




- A bersenam
- B makan dengan kerap
- C mandi dua kali sehari

Jawapan

Latihan 4

Jenis-jenis makanan

4.1 Tandakan / waktu makan yang sesuai bagi makanan berikut

	<p>Malam <input type="checkbox"/></p> <p>pagi <input type="checkbox"/></p> <p>petang <input type="checkbox"/></p>
	<p>Malam <input type="checkbox"/></p> <p>pagi <input type="checkbox"/></p> <p>petang <input type="checkbox"/></p>
	<p>Malam <input type="checkbox"/></p> <p>pagi <input type="checkbox"/></p> <p>petang <input type="checkbox"/></p>

4.2 Tandakan S untuk makan yang sehat dan T untuk makanan yang tidak sehat



Daging



Epal



Mee



Fish





Udang



Coklat

4.3 Namakan makanan yang tidak sehat




<div data-bbox="313 235 643 327" style="border: 1px solid black; width: 200px; height: 40px; margin: 0 auto;"></div>	
<div data-bbox="310 401 647 638" style="text-align: center;">  </div> <div data-bbox="332 663 631 751" style="border: 1px solid black; width: 180px; height: 40px; margin: 0 auto;"></div>	<div data-bbox="1003 443 1279 590" style="text-align: center;">  </div> <div data-bbox="1003 659 1333 739" style="border: 1px solid black; width: 200px; height: 40px; margin: 0 auto;"></div>

4.4 Pilih makanan yang sesuai untuk waktu makan berikut :

Sarapan pagi

Makan tengahari

Minum petang

--	--

	<input data-bbox="873 686 1305 802" type="text"/>
	<input data-bbox="901 1043 1333 1142" type="text"/>

4.5 Pilih jawapan yang betul

1. Makanan yang diambil dalam kuantiti yang sedikit adalah

- A nasi
- B ikan
- C gula-gula

Jawapan

2. Makanan yang sesuai untuk makan tengahari yang adalah _____

- A coklat
- B nasi dan ayam
- C mee goreng

Jawapan

3. Makanan berikut adalah makanan yang baik untuk kesihatan kecuali

- A sayur-sayuran
- B ikan
- C gula-gula

Jawapan

4. Haris makan nasi lemak ketika _____

- A makan tengahari
- B makan malam
- C sarapan pagi

Jawapan

5. Makanan berikut adalah kurang sihat kecuali

- A burger
- B kek
- C epal

Jawapan

6. Yang manakah adalah makanan yang sihat

A



B



C



Jawapan

7. Sarapan pagi yang sihat adalah

A



nasi lemak

B



hot dog

C



emping jagung / corn flakes

Jawapan

Latihan 5

Jenis-jenis haiwan

5.1 Kenalpasti bunyi-bunyi haiwan berikut

bleat

roar

croak

cluck

hiss

buzz



--	--

5.2 Namakan haiwan-haiwan dalam gambar di bawah



<input type="text"/>	<input type="text"/>
----------------------	----------------------

5.3 Cara haiwan-haiwan bergerak



Terbang berjalan berenang



Terbang meluncur berenang



Berenang

melompat

berjalan



Berenang

melompat

berjalan

5.4 Pilih jawapan yang betul



1. Apakah haiwan di dalam gambar di atas

- A kucing
- B singa
- C harimau

Jawapan

2. Haiwan yang manakah hidup di atas darat

- A penyu
- B kuda laut
- C itik

Jawapan

3. Haiwan manakah di bawah ini yang menyalak?



A



B



C

Jawapan

4. Haiwan manakah yang tidak berkaki

A badak sumbu

B ular

C monyet

Jawapan



P

Q

R

5. Yang mana satu adalah kucing

A P

B Q

C R

Jawapan

6. Yang manakah haiwan berikut boleh tinggal di dalam air dan di darat



A

B

C

Jawapan

7. Haiwan manakah yang boleh terbang?

A Penguin

B angsa

C burung kasuari

Jawapan

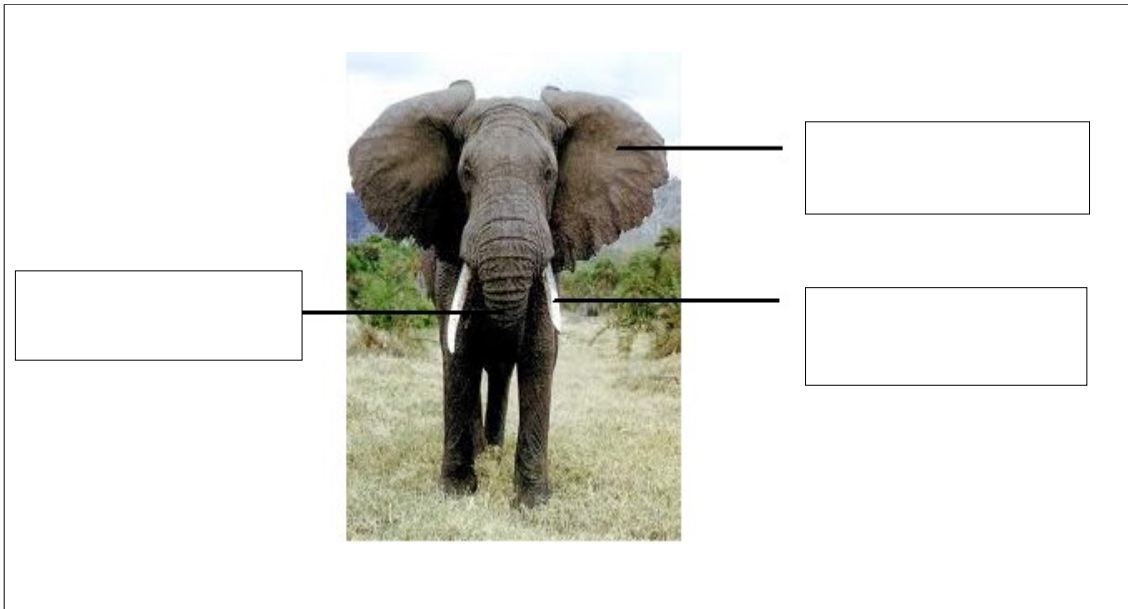
Latihar

Bahagi
6.1 Lat



bawah

Blank boxes for labeling parts of the elephant.



6.2 Namakan bahagian-bahagian haiwan yang dibulatkan



Blank box for labeling the cheetah's tail.





6.3 Padankan tempat tinggal bagi haiwan-haiwan berikut

Dalam tanah

Kolam

Pokok

Air

Hutan

Rumah







6.4 Pilih jawapan yang betul

1. Haiwan berikut adalah merbahaya kepada manusia kecuali

- A harimau
- B singa
- C kambing

jawapan

2. Tempat tinggal bagi badak sumbu adalah

- A zoo
- B hutan
- C taman

jawapan

3. Semua haiwan berikut tinggal di dalam air kecuali

- A kuda laut
- B ketam
- C kuda

jawapan

4. Ikan bergerak dengan menggunakan

- A sisik
- B sirip
- C ekor

jawapan

5. Haiwan berikut mempunyai tanduk kecuali

- A rusa
- B kerbau
- C tapir

jawapan

6. Haiwan manakah yang tidak tinggal di atas pokok

- A helang
- B monyet
- C arnab

jawapan

7. Haiwan yang manakah tinggal di dalam air

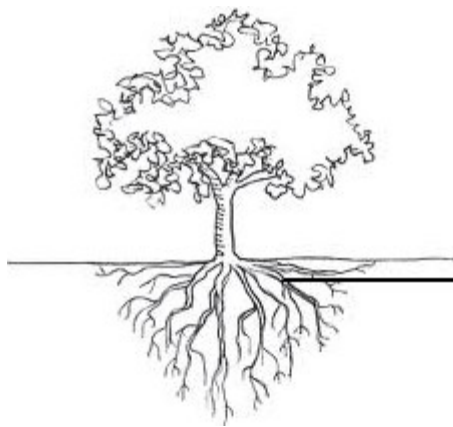
- A ular
- B kerang
- C biawak

jawapan

Latihan 7


Tumbuhan

7.1 Namakan bahagian-bahagian pokok





7.2 Namakan tumbuhan berikut





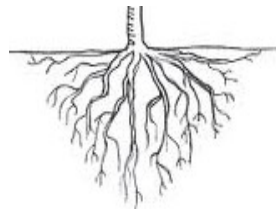
7.3 Kenalpasti bahagian tumbuhan



A



B



C




D



E



F



G



H

7.4 Pilih jawapan yang betul berpandukan gambar di atas

1. Antara bahagian tumbuhan yang mula-mula sekali tumbuh. Membentuk daun yang baru

Jawapan

2. Boleh menjadi tumbuhan yang baru apabila jatuh ke tanah.

Jawapan

3. Membolehkan tumbuhan berdiri tegak. Boleh menjadi tinggi dan sangat keras

Jawapan

4. Mempunyai pelbagai warna. Boleh menarik perhatian serangga.

Jawapan

5. Berwarna hijau. Jatuh ke tanah dan bertukar ke warna coklat Membantu tumbuhan membuat makanan

Jawapan

6. Bahagian yang mengunjur keluar dari batang tumbuhan. Tempat untuk daun dan juga buah-buahan melekat

Jawapan