

**SULIT**

Nama		Kelas	
------	--	-------	--

Dunia Muzik  
Mei  
2016  
1 jam



**SEKOLAH KEBANGSAAN SKAROK,  
LUBOK ANTU**

---

**UJIAN PERTENGAHAN TAHUN  
2016**

---

**DUNIA MUZIK**

**TAHUN 5**

60 minit

---

**JANGAN BUKA KERTAS SOALAN INI SEHINGGA DIBERITAHU**

*Arahan.*

1. *Tuliskan nama dan kelas pada ruang yang disediakan.*
2. *Kertas soalan ini mengandungi Bahagian A dan Bahagian B*
3. *Jawab semua soalan.*

<b>UNTUK KEGUNAAN PEMERIKSA</b>			
Bahagian	Soalan	Markah penuh	Markah diperoleh
<b>A</b>	1 - 10	20	
<b>B</b>	1	10	
	2	10	
	3	10	
<b>JUMLAH</b>			

DISEDIAKAN OLEH:

\_\_\_\_\_  
(STEPHANIE UNSIL RAKY)  
GURU PANITIA DUNIA MUZIK

DISEMAK OLEH:

\_\_\_\_\_  
(JOHN ANAK KEDEBO)  
PENOLONG KANAN PENTADBIRAN

DISAHKAN OLEH:


\_\_\_\_\_  
( AJAN ANAK EMBANG )  
GURU BESAR SK SKAROK

**SULIT**

**Bahagian A (20 markah)**

Bulatkan jawapan yang sesuai

1. Simbol apakah ini?



- A    *Garis Bar*
- B    *Tanda Rehat*

- C    *Garis Baluk*
- D    *Garisan Penamat*

2. Simbol apakah ini?



- A    *Bes Klef*
- B    *Tanda Penamat*

- C    *Klef Trebel*
- D    *Tanda Rehat*

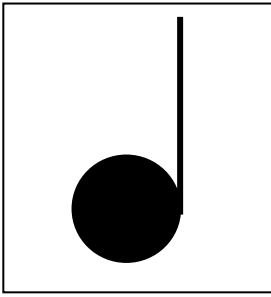
3. Not krocet mempunyai \_\_\_\_\_ nilai kiraan.

- A    *satu*
- B    *dua*

- C    *tiga*
- D    *empat*

**SULIT**

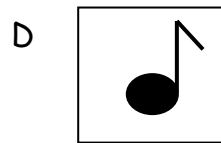
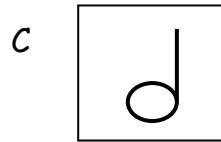
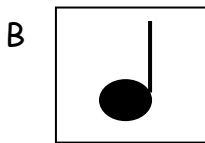
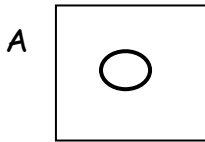
4. Apakah nama bagi lambang not di bawah?



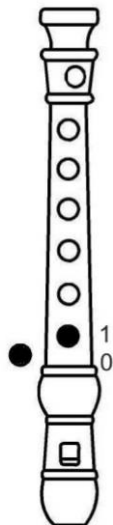
- A krocet
- B kuaver

- C minim
- D semikuaver

5. Apakah lambang bagi not minim?



6. Apakah not pada penjarian rekoder ini?



- A Not A
- B Not B
- C Not C
- D Not G

## SULIT

7. Not semibrif mempunyai \_\_\_\_\_ nilai kiraan.

A empat

B dua

C tiga

D satu

8. Dua nilai not krocet bersamaan dengan \_\_\_\_\_ nilai not minim.

A empat

B dua

C tiga

D satu

9. Yang manakah not kuaver?



10. Apakah nama tanda rehat ini?



A Minim

B Krocet

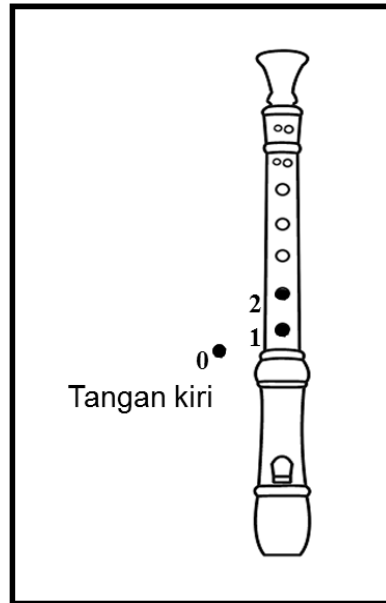
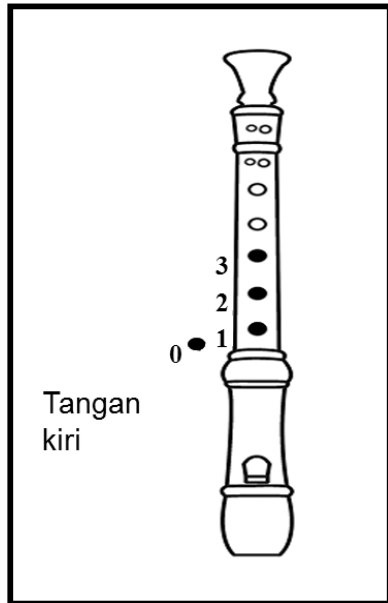
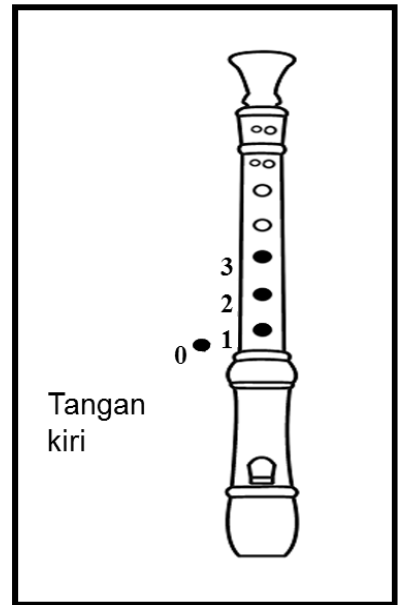
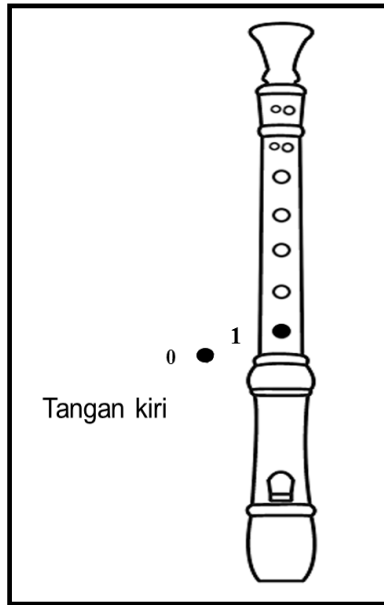
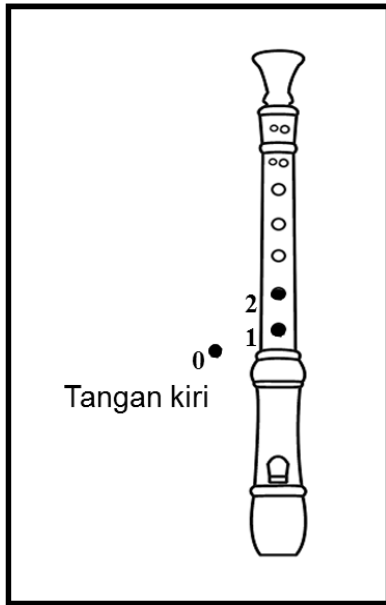
C Kuaver

D Semibrif

SULIT

**Bahagian B ( 30 markah )**

1. Lengkapkan penjarian rekoder dengan not B, A dan G



/ 10

SULIT

2. Lukis simbol muzik yang betul dalam petak yang disediakan.

1.
semibrif

4.
garis baluk

2.
klef trebel

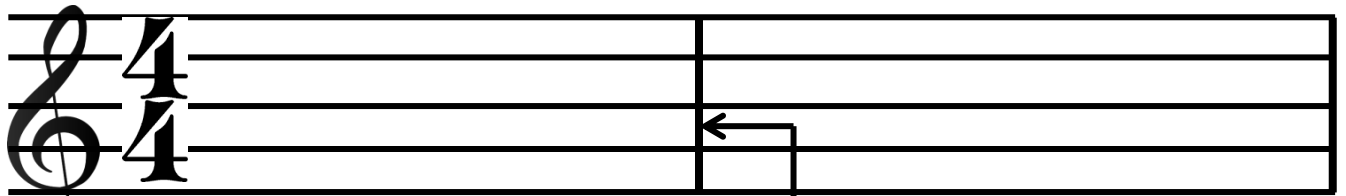
5.
garis penamat

3.
minim

6.
tanda rehat minim

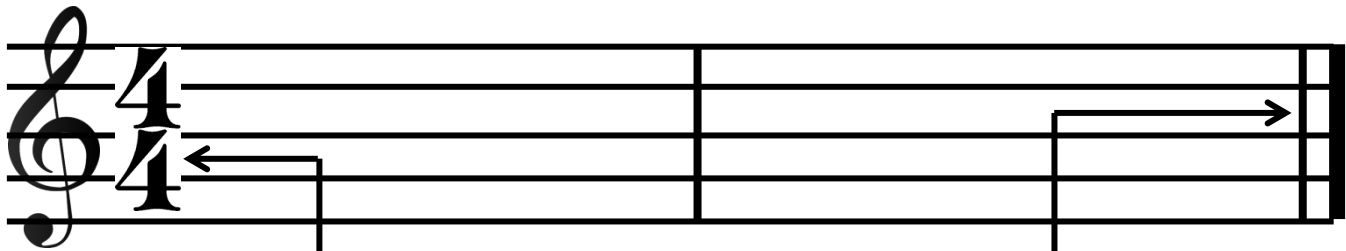
SULIT

3. Namakan simbol berdasarkan anak panah di bawah ini.



1.

2.



3.

4.

Kertas Soalan Tamat.

/ 10