

Nama : \_\_\_\_\_

Tingkatan : \_\_\_\_\_

**UJIAN DIAGNOSTIK 3****GEOGRAFI****2280/2****Kertas 2****2 ½ jam****Dua Jam 30 minit**

---

**JANGAN BUKA KERTAS SOALAN INI SEHINGGA DIBERITAHU**

---

<i>Untuk Kegunaan Pemeriksa</i>			
Kod Pemeriksa:			
Bahagian	Soalan	Markah Penuh	Markah Diperoleh
A	1	15	
	2	15	
B	3	10	
	4	10	
	5	10	
C	6	20	
	7	20	
	8	20	
	9	20	

Bahagian A [30 markah]

Jawab **semua** soalan

**Soalan 1** berdasarkan peta topo siri 2280/2/2019 yang disediakan.

Kaji peta ini dengan teliti sebelum menjawab soalan berikut.

1. (a) Nyatakan Rujukan Grid 6 angka jambatan batu yang terletak berhampiran Ladang Bee (RG0355).

.....  
[2 markah]

- (b) Berapakah bearing masjid (RG 007541) dari simpang tiga Ladang Takur (RG 036559).

.....  
[2 markah]

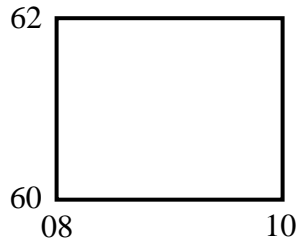
- (c) Kira jarak dari simpang tiga Kg. Sekoh (RG 027601) ke simpang empat Kg. Ulu Rimbat (RG 045602) ?

.....kilometer  
[2 markah]

- (d) Terangkan kepentingan ciri budaya yang terletak pada RG 091577 terhadap penduduk yang tinggal berhampiran kawasan tersebut.

.....  
.....  
.....  
.....  
.....  
[4 markah]

**Soalan e ( i )** berdasarkan segi empat grid berikut.



(e) (i) Namakan peringkat sungai yang terdapat dalam segi empat grid tersebut ?

.....

[1 markah]

(ii) Pada pendapat anda, jelaskan usaha untuk mengekalkan kelestarian alam sekitar di kawasan segi empat grid tersebut ?

.....  
 .....  
 .....  
 .....

[4 markah]

**Jadual 1:** Pengeluaran dan Import Beras Malaysia dari Tahun 2019 hingga 2022.

Tahun	Pengeluaran (ribu tan metrik)	Import (ribu tan metrik)
2019	1500	880
2020	1620	960
2021	1680	900
2022	1580	940

*Sumber : Ubahsuai Kementerian Pertanian dan Keterjaminan Makanan.*

2. (a) Berdasarkan **Jadual 1**, lukis graf garisan berganda yang menunjukkan pengeluaran dan

import beras Malaysia dari tahun 2019 hingga 2022.

Gunakan skala 1 cm mewakili 100 ribu tan metrik.

[8 markah]

(b) Merujuk kepada graf yang telah anda lukis, jelaskan pola perubahan pengeluaran dan import beras Malaysia dari tahun 2019 hingga 2022?

.....

.....

.....

.....

.....

[3 markah]

(c) Jelaskan kepentingan kegiatan pertanian terhadap pembangunan negara?

.....

.....

.....

.....

.....

[4 markah]

SULIT

[ 30

Foto



HAK MILIK JPN MELAKA

Bahagian B  
markah ]

Jawab semua soalan.  
1 menunjukkan gerakan jisim.

Foto 1

3. (a) Apakah jenis gerakan jisim dalam Foto 1.

.....  
[ 1 markah ]

(b) Jelaskan faktor berlakunya gerakan jisim tersebut.

.....  
.....  
.....  
.....  
.....  
[ 4 markah ]

(c) Nyatakan kesan kejadian tersebut terhadap alam sekitar.

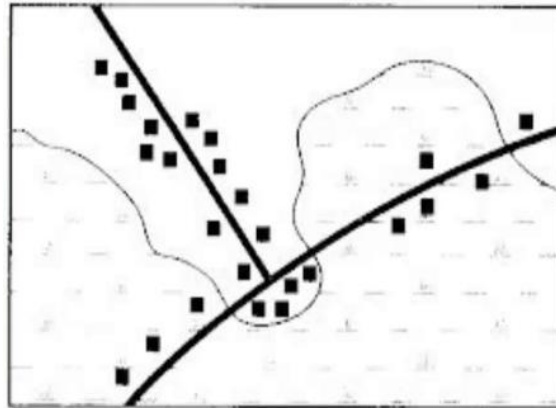
.....  
.....  
[ 2 markah ]

(d) Cadangkan langkah untuk mengatasi kejadian tersebut.

.....  
.....  
.....

[ 3 markah ]

**Rajah 1** menunjukkan sejenis pola petempatan.



Rajah 1

4. (a) Apakah jenis pola petempatan dalam Rajah 1 ?

.....

[ 1 markah ]

(b) Nyatakan ciri pola petempatan tersebut.

.....  
.....

[2 markah ]

(c) Terangkan faktor yang mempengaruhi pola petempatan tersebut?

.....  
.....  
.....

[ 3 markah ]

- (d) Petempatan bandar dan luar bandar saling bergantung antara satu sama lain.  
 Jelaskan sumbangan petempatan luar bandar kepada petempatan bandar.

.....

.....

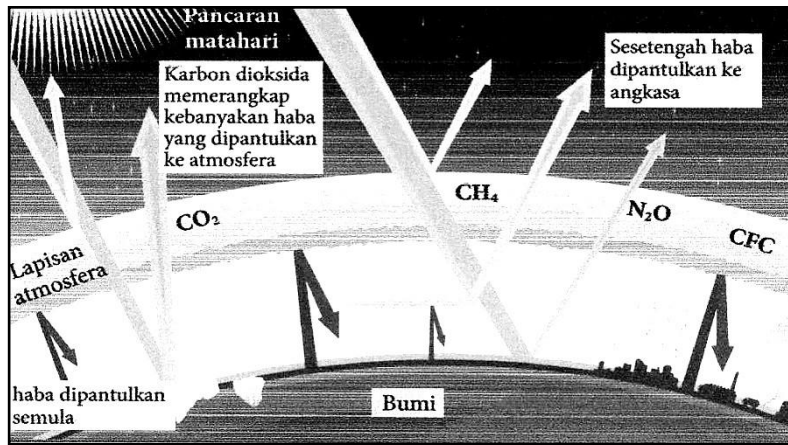
.....

.....

.....

[ 4 markah ]

**Rajah 2** menunjukkan fenomena cuaca dan iklim.



Rajah 2

5. (a) Apakah fenomena dalam Rajah 2 tersebut ?

.....

[1 markah]

- (b) Apakah kegiatan manusia yang mempengaruhi fenomena tersebut ?

.....

.....

[2 markah]

(c) Terangkan faktor yang mempengaruhi kejadian fenomena dalam Rajah 2 ?

.....  
.....  
.....  
.....  
.....

[ 3 markah ]

(d) Jelaskan impak fenomena tersebut terhadap manusia dan alam sekitar ?

.....  
.....  
.....  
.....  
.....

[ 4 markah ]





◀ MILIK JPN MELAKA

### Bahagian C

[ 40 markah ]

*Jawab mana-  
mana **dua**  
soalan  
daripada  
bahagian ini.*

**Peta 1** menunjukkan kawasan berpenduduk padat dunia.

Peta 1

6. (a) Jelaskan faktor yang mempengaruhi kepadatan penduduk di kawasan berlorek tersebut?

[8 markah]

(b) Terangkan kesan terhadap alam sekitar akibat penduduk padat di kawasan tersebut.

[6 markah]

(c) Mengapakah terdapat kawasan berpenduduk jarang di sesetengah kawasan di dunia?

[6 markah]

Foto 2 di bawah menunjukkan kesan akibat gempa bumi.



## Foto 2

7 (a) Jelaskan bagaimana kejadian gempa bumi berlaku?

[4 markah]

(b) Huraikan tindakan yang boleh diambil sebagai persediaan menghadapi ancaman gempa bumi dan tsunami.

[8 markah]

(c) Pernyataan berikut berkaitan dengan fenomena alam.

Kesan letusan gunung berapi dapat memberi impak positif terhadap aktiviti ekonomi penduduk setempat.

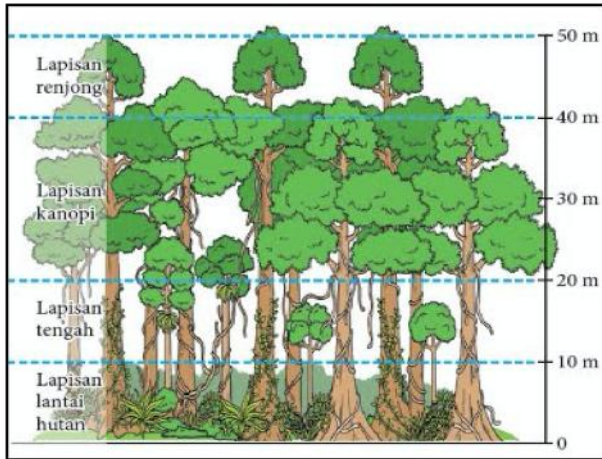
*Sumber: <http://merdeka.com>*

Huraikan ulasan anda terhadap pernyataan di atas.

[8 markah]

Soalan 8 menunjukkan tumbuh-tumbuhan semula jadi.





Hutan A  
Hutan B

8 (a) Namakan jenis tumbuh-tumbuhan semula jadi Hutan A dan Hutan B.

[2

markah]

(b) Huraikan kepentingan tumbuh-tumbuhan semula jadi dan hidupan liar terhadap keseimbangan ekosistem.

[8 markah]

(c) Jelaskan kesan kegiatan perhutanan terhadap ekosistem tumbuhan semula jadi dan hidupan liar di Malaysia.

[8 markah]

(d) Cadangkan usaha yang boleh dilakukan untuk pemeliharaan dan pemuliharaan tumbuh-tumbuhan semula jadi dan hidupan liar di Malaysia.

[2 markah]

9. (a) Berdasarkan peta di atas, namakan :

- (i) Kawasan *Geopark* bertanda P
- (ii) Lokasi Agro pelancongan bertanda Q
- (iii) Taman Negara bertanda R
- (iv) Pulau pelancongan bertanda S

[4 markah]

(b) Jelaskan faktor yang mempengaruhi perkembangan aktiviti ekopelancongan di Malaysia.

[4 markah]

(c) Terangkan kepentingan aktiviti ekopelancongan terhadap aspek sosioekonomi.

[8 markah]

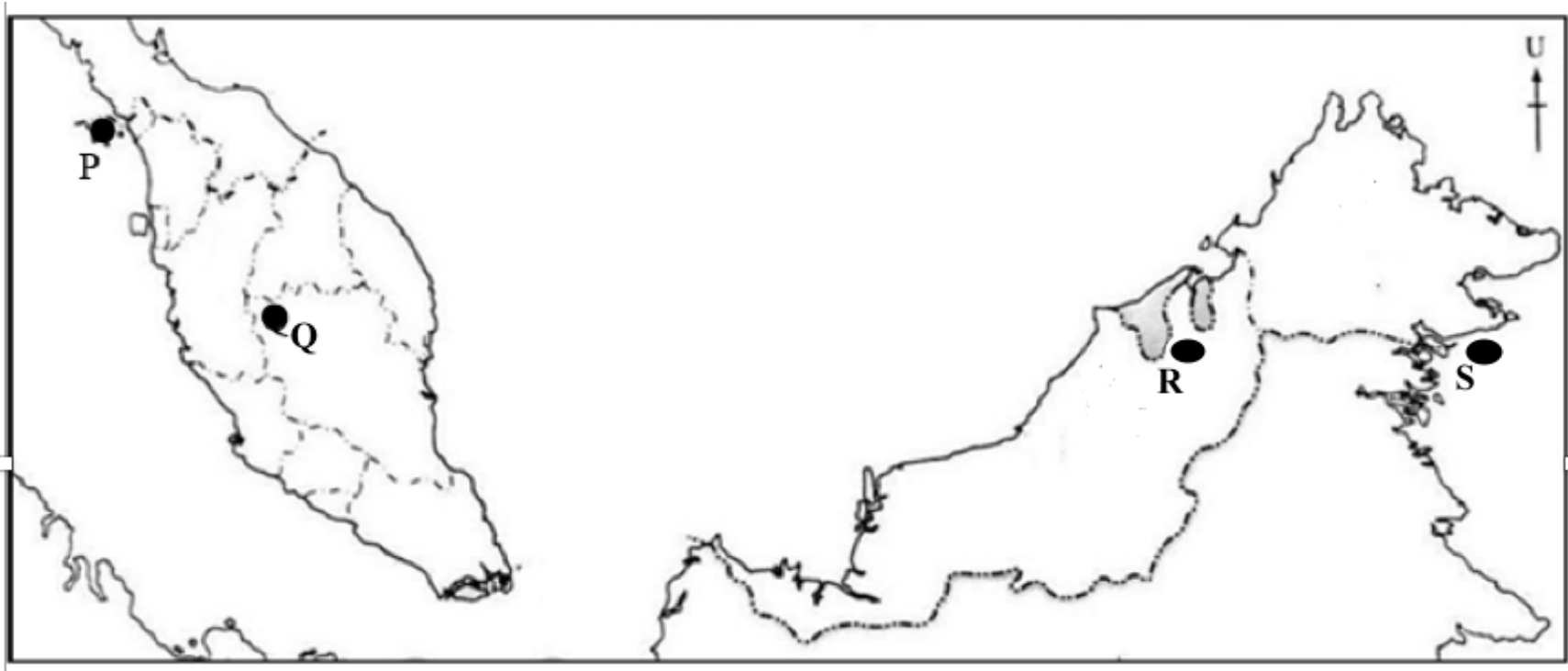
(d) Pada pendapat anda, apakah langkah yang perlu diambil oleh kerajaan untuk memajukan industri ekopelancongan di Malaysia.

[4 markah]

No. Kad Pengenalan : .....

Angka Giliran : .....

Peta 2 untuk Soalan No. 9 (a), halaman 12



Peta 2: Malaysia

P		R	
Q		S	



